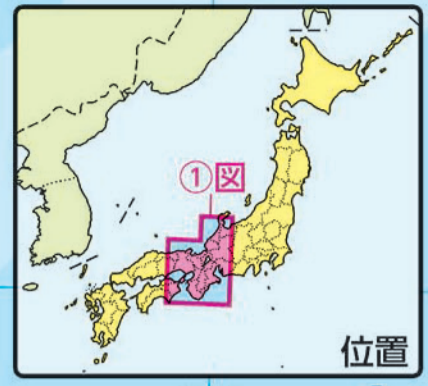


1 近畿地方

1 : 1,000,000
0 10 20km
ランベルト正角円錐図法



行政

日本標準時子午線



1 近畿地方

1 : 1,000,000
0 10 20km
ランペルト正角円錐図法



市街地	陸高
田	2000m
畑	1400m
果樹園	600m
その他	0m
	水深
	0m
	200m
	1000m
	2000m

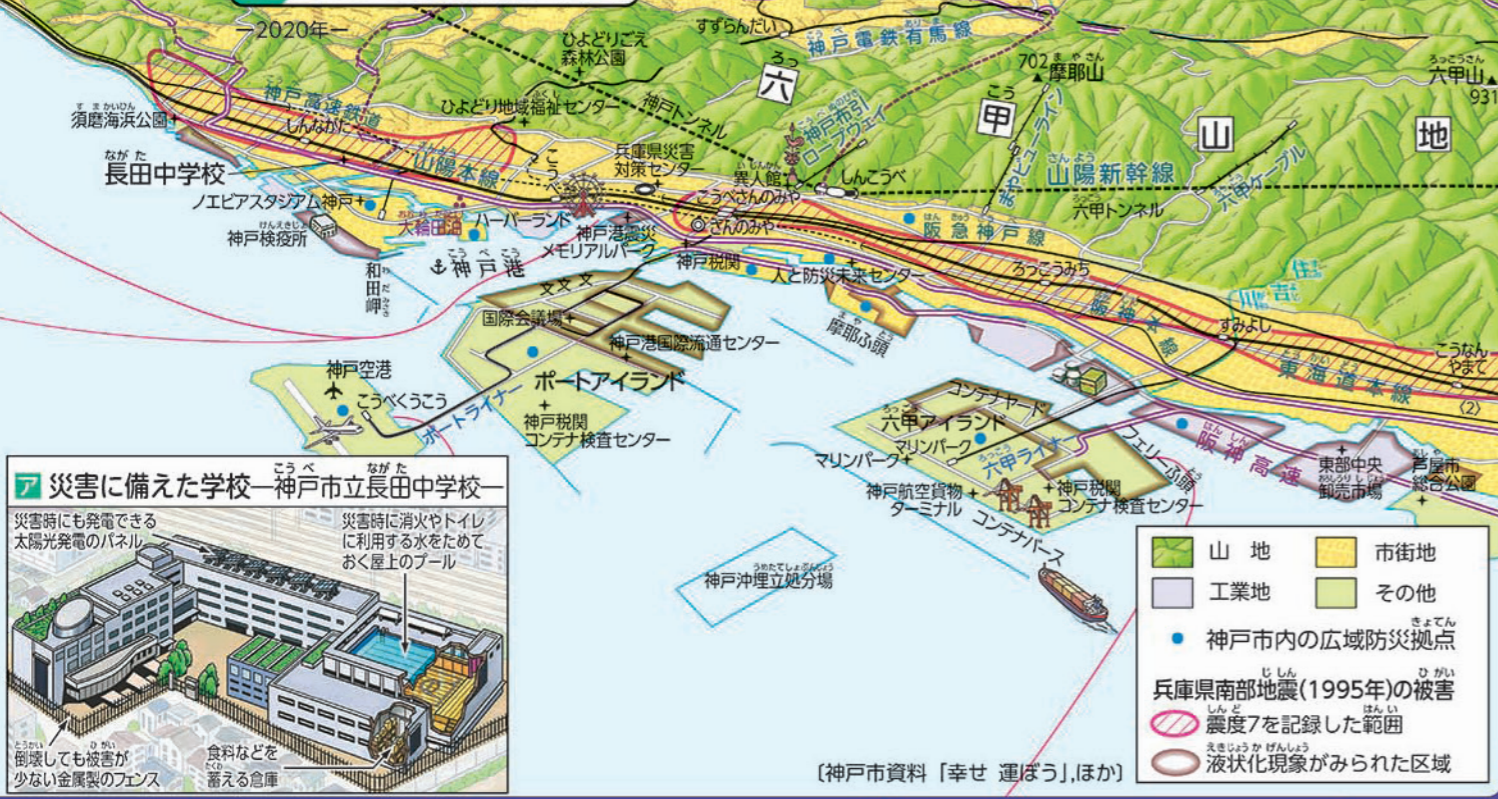
自然





防災

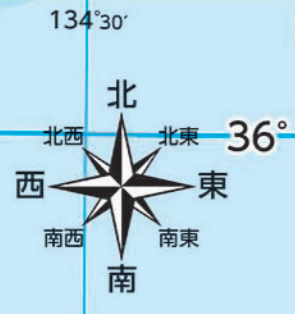
2 神戸市付近のようす
-災害への備え-



災害に備えた学校—神戸市立長田中学校—

災害時にも発電できる太陽光発電のパネル
災害時に消火やトイレに利用する水をためておく屋上のプール

耐震しても被害が少ない金属製のフェンス
食料などを蓄える倉庫



日本標準時子午線
134°30' 135° 135°30'

石川県

富山県





市街地	田	畑	果樹園	その他
陸高				
2000m	1400m	600m	0m	
水深				
0m	200m	1000m	2000m	

地図活用

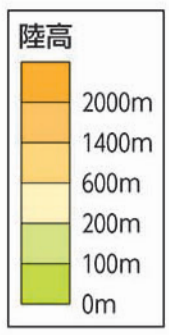
1 琵琶湖には多くの河川が流れこんでいるが、一つだけ琵琶湖から流れ出して海(湾)に注ぐ河川がある。その河川を答えよう。

2 大阪市から神戸市、奈良市、京都市までのおよその直線距離と、大阪市から見たそれぞれの都市がある方位を答えよう。



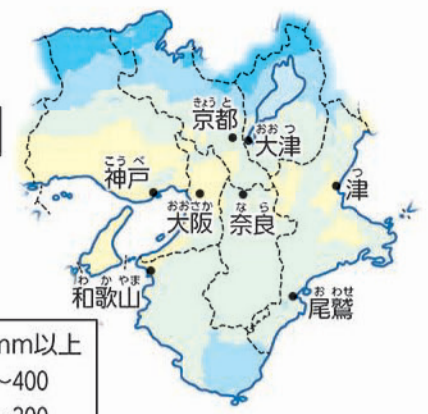
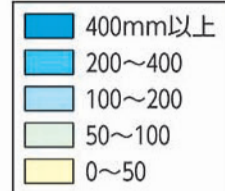
1 自然

1 : 3,500,000
0 50km



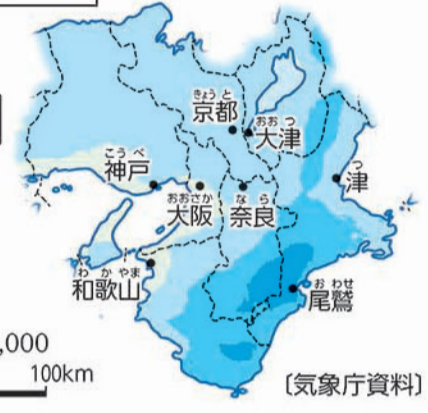
2 降水量

1月



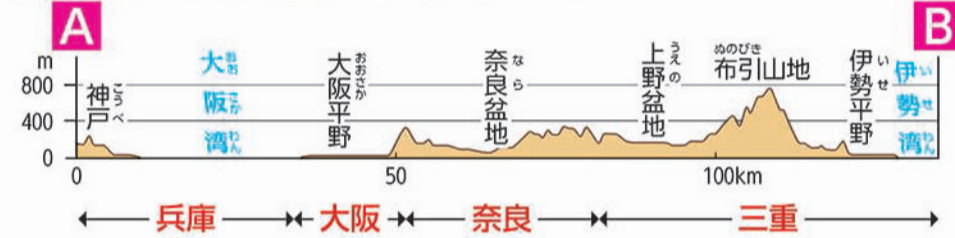
8月

1 : 8,000,000
0 100km



(気象庁資料)

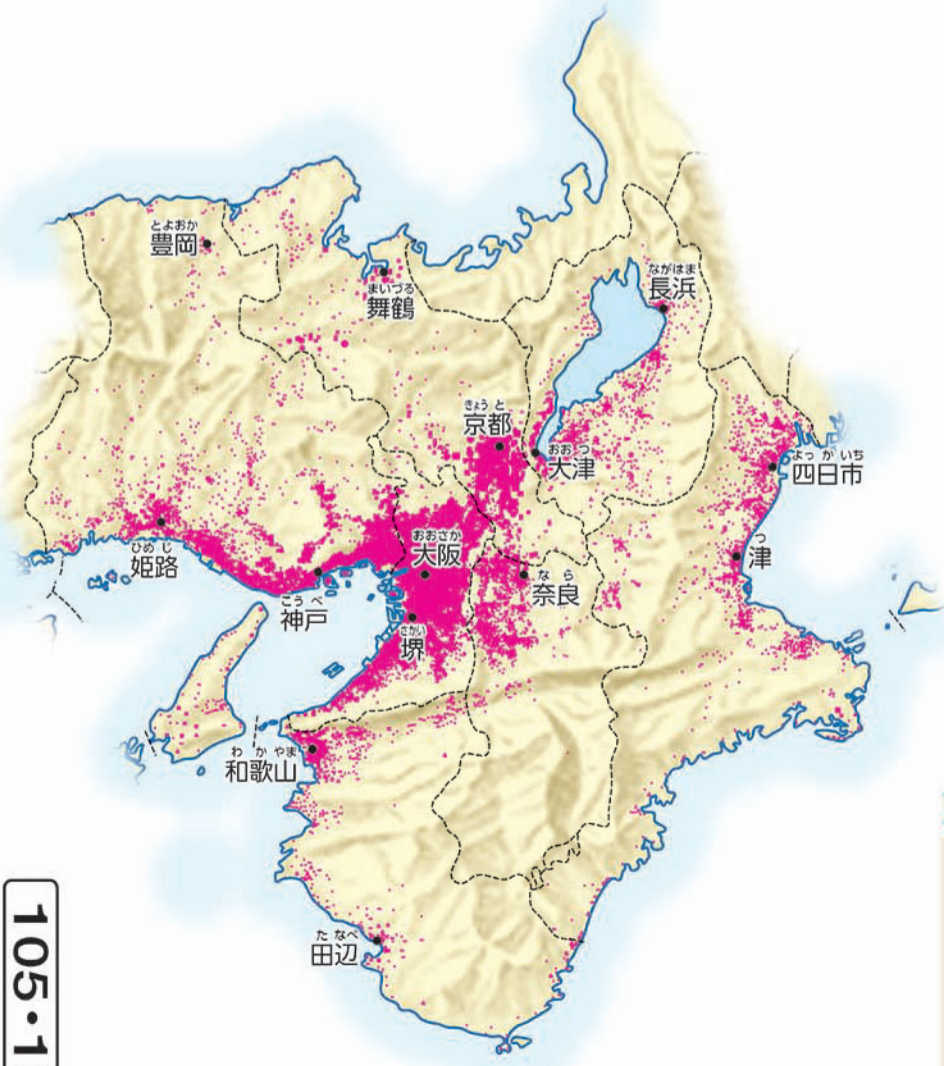
ア 近畿地方(A—B間)の断面図



3 人口分布

1 : 3,500,000
0 50km

1点=1000人



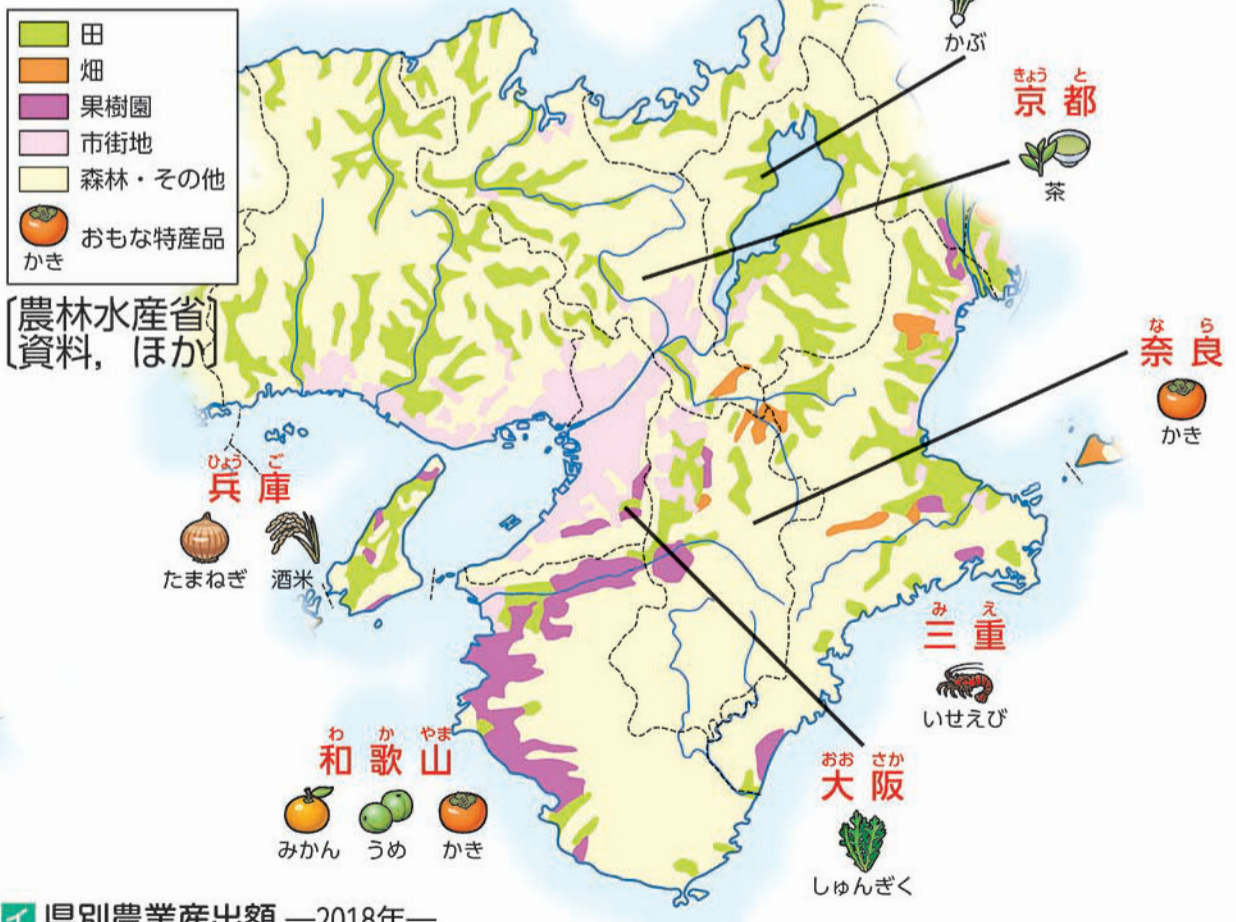
[平成27年 国勢調査報告]

4 農業

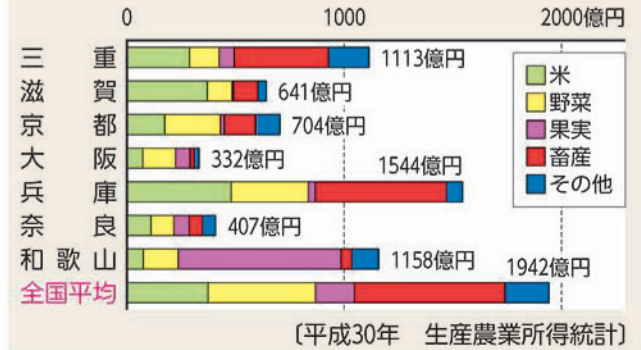
1 : 3,500,000
0 50km



[農林水産省] 資料, ほか



イ 県別農業産出額 —2018年—

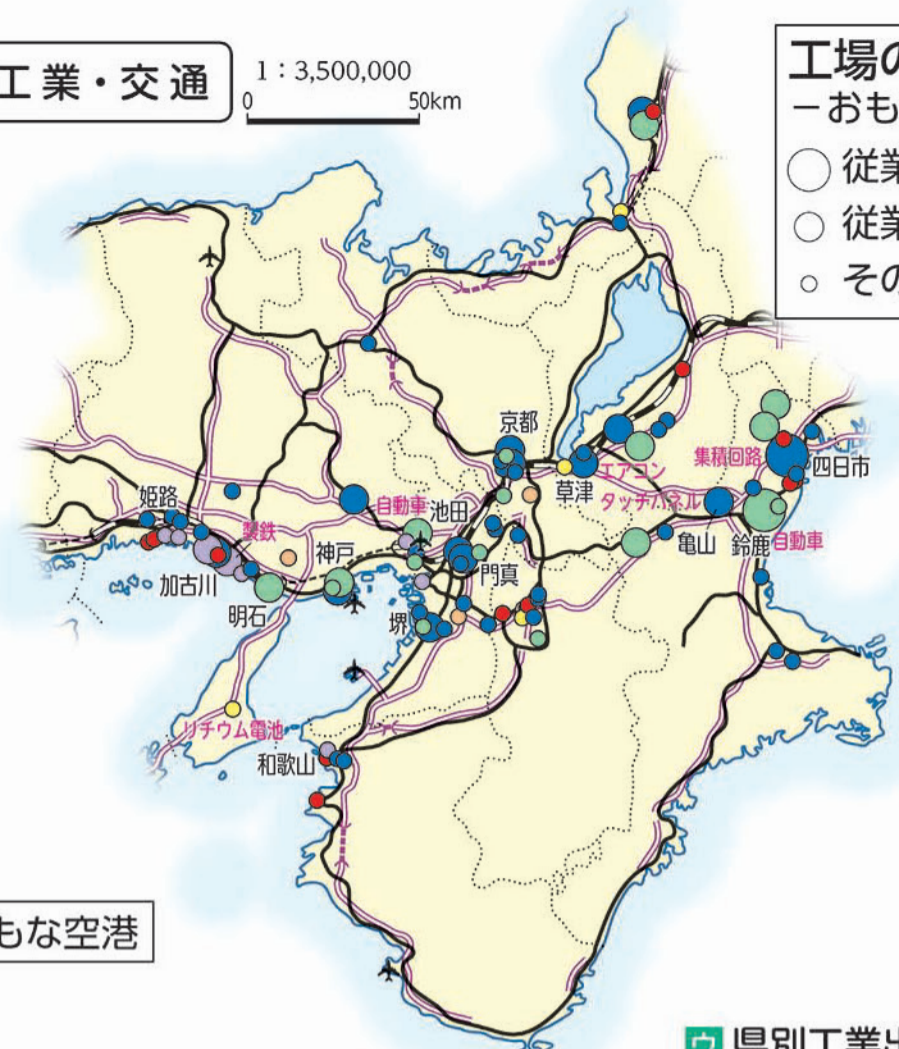


地図活用

おおさか しが わかやま
大阪府・滋賀県・和歌山県の陸高が低いところでは、それぞれどのような土地利用が多くみられるか、①図と④図を比べて答えよう。

5 工業・交通

1 : 3,500,000
0 50km



工場の分布
—おもに2017年—

- 従業員5000人以上
- 従業員2000～5000人
- その他のおもな工場

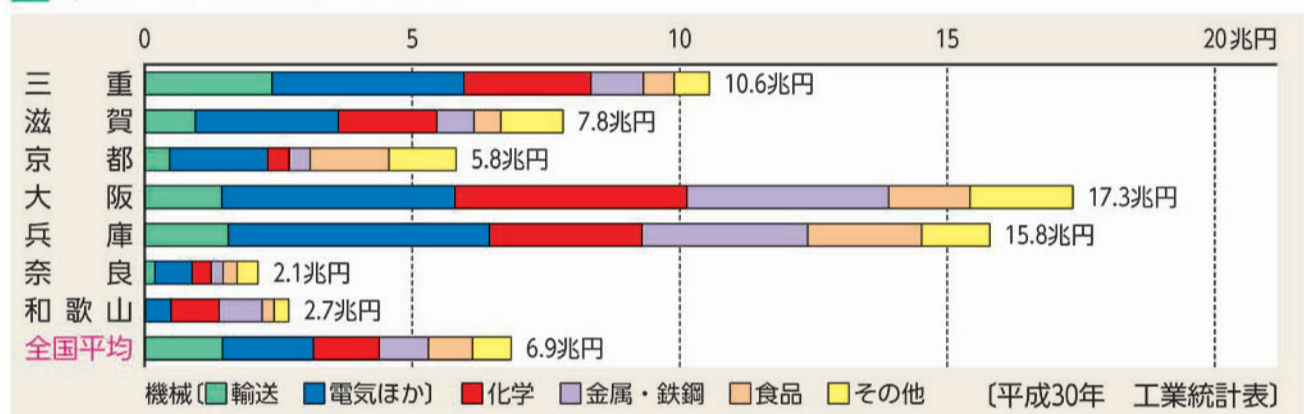
工業の種類

- 機械〔 ● 輸送 ● 電気ほか ● 化学
- 金属・鉄鋼 ● 食品 ● その他

〔資源エネルギー〕
庁資料, ほか

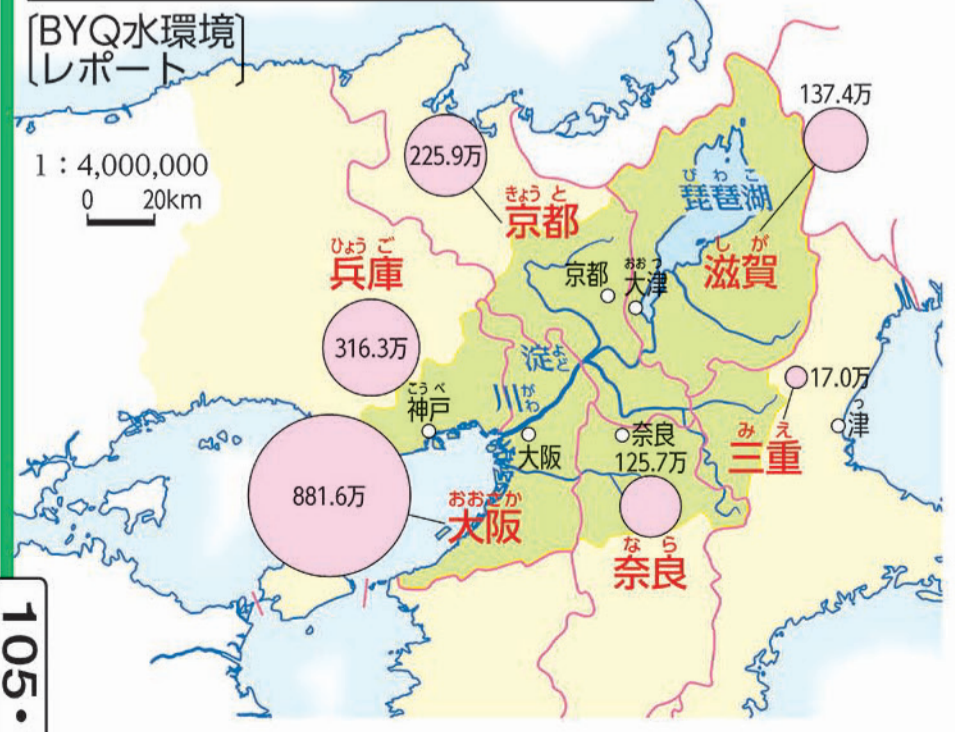
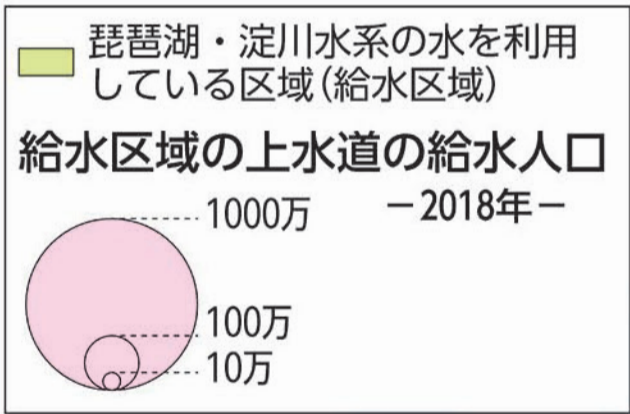
↑ おもな空港

ウ 県別工業出荷額 —2017年—



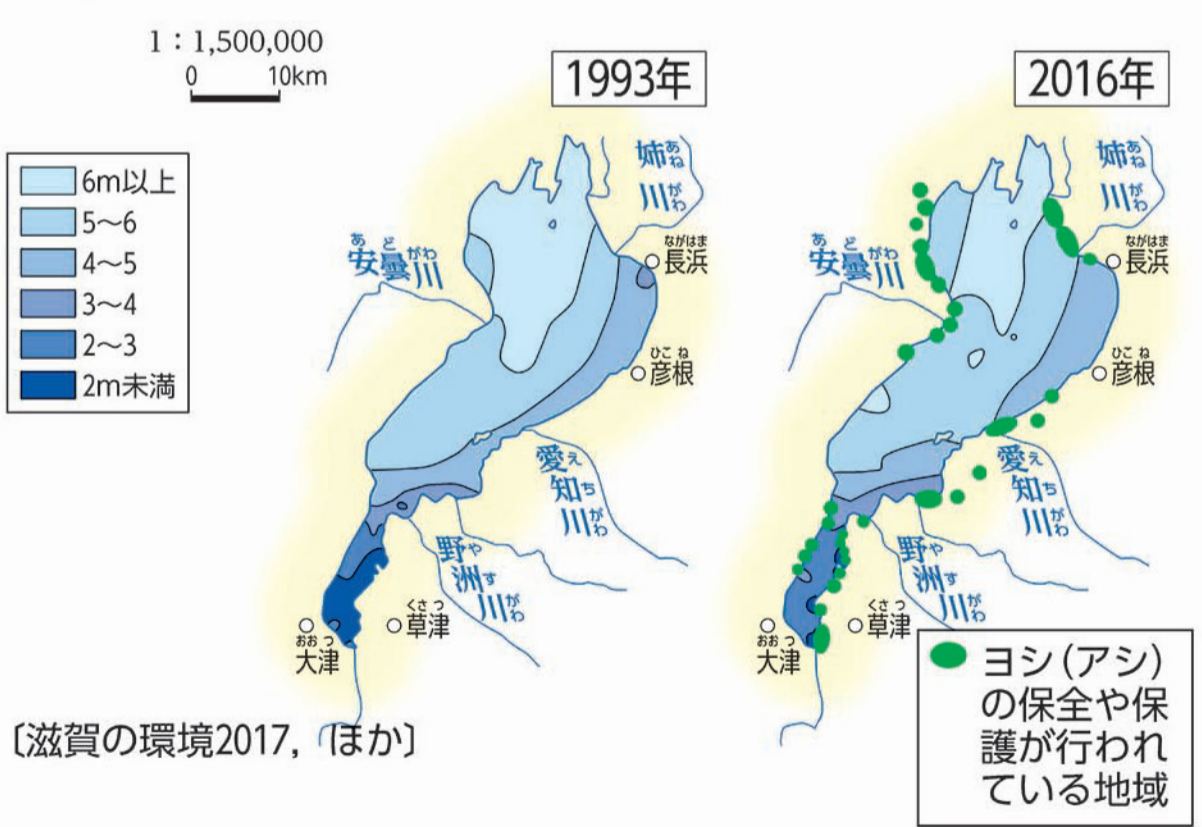
環境

6 びわこ琵琶湖の水利用



7 びわこ とうめいど 琵琶湖の透明度* の変化

*透明度とは、水がどのくらい澄んでいるかを調査して得られた数字を指す。



地図活用

びわこ
1993年と2016年の地図を比べて、琵琶湖の透明度にどのような変化が起こっているか、説明しよう。また、そのような変化がなぜ起こっているのか、図書館の本などで調べよう。